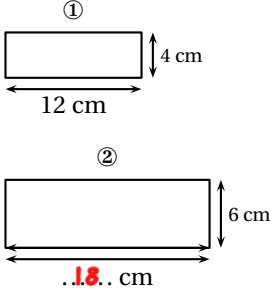


	ÉNONCÉ	RÉPONSE	JURY
21)	Le tiers de 12 œufs	..4... œufs	
22)	Le tiers de 120 g	..40.. g	
23)	Cent-trois-millions-seize	103 000 016	
24)	3 sucettes coûtent 1 € 20 centimes. <b>Combien coûte 1 sucette ?</b>	40 centimes	
25)	Le rectangle ② est un agrandissement du ①. <b>Complète.</b>		
26)	Écriture décimale de 320 dixièmes	32	
27)	J'ai 12 ans. J'ai 5 ans de moins que mon frère. <b>Quel âge a mon frère ?</b>	..17... ans	
28)	24 mm + 7 cm =	9,2.. cm	
29)	2,14 + 0,6	2,74	
30)	J'ai 4 T-Shirts différents et 3 pantalons différents. <b>Complète.</b>	Je peux m'habiller de ..12.. façons différentes.	

NOM: .....

PRÉNOM: .....

SCORE: /30

CLASSE: CM2.....

✓ *Durée: 9 minutes*


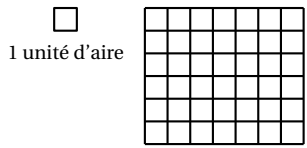
✓ *L'épreuve comporte 30 questions.*

✓ *L'usage de la calculatrice et du brouillon sont interdits. Il n'est pas permis d'écrire des calculs intermédiaires.*

## SUJET CM2



	ÉNONCÉ	RÉPONSE	JURY
1)	$7 \times 5$	35	
2)	$23 + 17$	40	
3)	Complète. Dans 20300, il y a <b>203</b> centaines.		
4)	$103 - 11$	92	
5)	Complète. $4 \times \dots = 28$	7	
6)	Ajoute un quart d'heure à 2 h 20 min.	2 h 35 min	
7)	La moitié de 52	26	
8)	Complète par une fraction.	$\frac{2}{3}$	
9)	12 vis pèsent 30 g.	24 vis pèsent 60 g.	
10)	$36 \div 4$	9	
11)	Écriture décimale de $(7 \times 10) + \left(3 \times \frac{1}{10}\right)$	70,3	
12)	5 dizaines 23 unités =	73 unités	

	ÉNONCÉ	RÉPONSE	JURY
13)	Complète.		
14)	$8 \times 25$	200	
15)	Un fleuriste a 100 roses. <b>Combien de bouquets de 5 roses peut-il faire au maximum ?</b>	20	
16)	Le quart de 1	0,25 ou $\frac{1}{4}$	
17)	Quel est le nombre 100 fois plus grand que 5 dizaines ?	5000	
18)	Quelle est l'aire du rectangle ?	 42.. unités d'aire	
19)	Le double de 12,5	25	
20)	Encadre la fraction par 2 entiers consécutifs.	$\dots < \frac{9}{4} < \dots$	