

	ÉNONCÉ	RÉPONSE	JURY
21)	Un tiers de 12 œufs	4 ... œufs	
22)	Deux tiers de 120 g	80 .. g	
23)	Écris en chiffre : deux-millions-trois-cents	2 000 300	
24)	Il me manque 2 € pour acheter deux BD à 12 € chacune.	J'ai 22 ... €.	
25)	5 vis pèsent 55 g. Combien pèsent 2 vis ?	22 .. g	
26)	Complète.	75 cL + 25 .. cL = 1 L	
27)	Léo et Lisa ont ensemble 10 ans.	Dans 5 ans, il auront ensemble 20 .. ans.	
28)	Entoure la réponse possible.	La tour Eiffel mesure environ : 3 km 3 m 300 m	
29)	Une pile de 4 livres identiques a une hauteur de 6 cm.	Une pile de 6 de ces livres a une hauteur de 9 .. cm.	
30)	Léo a 30 billes et Zoé en a 5.	Zoé a 6 .. fois moins de billes que Léo.	

NOM:

PRÉNOM:

SCORE: /30

CLASSE: **C.M.2**.....

✓ *Durée: 9 minutes*

✓ *L'épreuve comporte 30 questions.*

✓ *L'usage de la calculatrice et du brouillon sont interdits. Il n'est pas permis d'écrire des calculs intermédiaires.*

SUJET CM2 - JUIN 2018

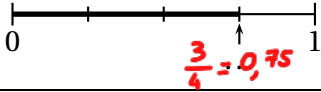


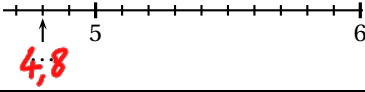
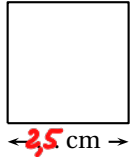
Région académique
NORMANDIE



Région académique
GRAND EST



	ÉNONCÉ	RÉPONSE	JURY
1)	$58 + 9$	67	
2)	$300 - 101$	199	
3)	$8 + 8 + 8 + 8$	32	
4)	9×3	27	
5)	Complète.	$4 \times \mathbf{8} \dots = 32$	
6)	Enlève une demi-heure à 1 h 10 min.	40 min	
7)	Le quart de 32	8	
8)	7 vis pèsent 15 g.	..14.. vis pèsent 30 g.	
9)	Complète.		
10)	$45 \div 3$	15	
11)	Écris autrement $\frac{204}{100}$.	2,04	
12)	Complète.	$3,5 = \frac{\mathbf{35}}{\mathbf{10}} = \frac{\mathbf{7}}{\mathbf{2}}$	

	ÉNONCÉ	RÉPONSE	JURY
13)	Complète.		
14)	Avec 100 roses, un fleuriste fait 20 bouquets identiques.	Il y a .5... roses dans chaque bouquet.	
15)	$1 \div 4$	0,25 ou $\frac{1}{4}$	
16)	Le périmètre de ce carré est de 10 cm. Complète.		
17)	Encadre 99,4 par deux entiers qui se suivent.	.99. < 99,4 < .100.	
18)	Quel est le nombre 10 fois plus grand que 3 dixièmes ?	3	
19)	$4 \times 1,5$	6	
20)	Entoure le plus grand nombre.	$\frac{2}{3}$ (2,1)	