
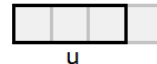
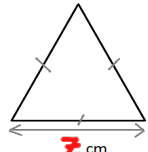

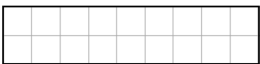
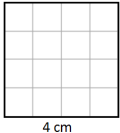


	Enoncé	Réponse	Jury
1	$8 \times 8$	64	
2	La moitié de 32	16	
3	$(6 \times 1\,000) + (3 \times 10)$	6030	
4	Complète.		
5	$27 - 9$	18	
6	$100 - 19$	81	
7	Ajoute un quart-heure à 2 h 50 min	3 h 05 min	
8	A quelle fraction de u correspond la partie grisée ? 	$\frac{3}{4}$	
9	12 feutres coûtent 6 €. Combien coûtent 6 feutres ?	3 €	
10	Complète.	$77 - 27 = 50$	

	Enoncé	Réponse	Jury
11	Complète.	<del>10</del> $\times 2,3 = 23$	
12	Le chiffre des dixièmes de 58,41	4	
13	Combien faut-il de pièces de 10 centimes pour avoir 1,40 € ?	14	
14	$0,5 \times 6$	3	
15	27 élèves se mettent par groupe de 3. Combien y-a-t-il de groupes ?	9	
16	Complète.	147 cm = <del>1,47</del> m	
17	Le <b>périmètre</b> de ce triangle équilatéral est de <b>21 cm</b> . Complète.		
18	Ecriture décimale de $6 + \frac{4}{100}$	6,04	
19	Dans 75 combien de fois 25 ?	3	
20	Entoure le plus grand nombre.	<u>1,2</u> $\frac{4}{5}$	

	Enoncé	Réponse	Jury
21	68 : 2	34	
22	68 : 4	17	
23	Complète.		
24	Encadre 19,8 par deux entiers consécutifs.	19 < 19,8 < 20	
25	Ajoute 50 min à 2 h 48 min	3 h 38 min	
26	Complète.	0,800 kg = 800 g	
27	3 croissants coûtent 3,45 € Combien coûte un croissant ?	1,15 €	
28	Complète.	750 mL + 250 mL = 1 L	
29	Il faut 6 œufs pour faire des crêpes pour 9 personnes. Combien faut-il d'œufs pour 3 personnes ?	2 œufs	
30	  Entoure la bonne réponse.	Ces deux figures ont la même aire VRAI ou FAUX	

NOM: \_\_\_\_\_ PRÉNOM: \_\_\_\_\_

CLASSE: CM2

SCORE: \_\_\_ /30

✓ *Durée : 9 minutes*

✓ *L'épreuve comporte 30 questions.*

✓ *L'usage de la calculatrice et du brouillon sont interdits.*

✓ *Il n'est pas permis d'écrire des calculs intermédiaires.*



JUIN

CM2



MINISTÈRE  
DE L'ÉDUCATION NATIONALE,  
DE L'ENSEIGNEMENT SUPÉRIEUR  
ET DE LA RECHERCHE

